

ملحق (٤)

اختبار الذكاء العالى

الاسم: العمر:
القسم: السنة الدراسية:

فيما يلي أسئلة تبين قدرتك على التفكير وليس لها علاقة مطلقاً بعملك المدرسي. والمطلوب منك أن تجيب عن هذه الأسئلة بالترتيب بدقة وبسرعة، ولا تجعل أحد الأسئلة يستغرق منك وقتاً أطول من اللازم، فإذا وجدت صعوبة كبيرة في سؤال اتركه وانتقل لغيره الذي بعده.

واليك بعض أمثلة الأسئلة التي ستجدها في الاختبار. حاول الإجابة عنها الآن، وستجد الإجابات عنها بعد ذلك. بعد فهمها انتقل مباشرة إلى الصفحة التالية وأجب عن أسئلة الاختبار .

— اكتب الكلمات الناقصة في كل سطر مما يأتي :

(١) أبيض إلى أسود مثل قصير إلى.....

(٢) عين إلى..... مثل..... إلى يسمع.

— أوجد العددين التاليين في سلسلة الأعداد الآتية :

(٣) ٢ - ٤ - ٨ - ١٦ - -

(٤) ١٥ - ٥١ - ١٦ - ٦١ - ١٧ - ٧١ - -

— رتب الكلمات الآتية لتكون جملة مفهومة ثم اعمل ما تطلبه منك الجملة فقط:

(٥) حيوان اسم اكتب

— الإجابات الصحيحة هي :

(١) طويل

(٢) يرى - أذن

(٣) ٣٢ - ٦٤

(٤) ١٨ - ٨١

(٥) أكتب اسم حيوان (قط مثلاً).

(والآن أجيب الأسئلة الآتية)

— اشطب كل (١) تاتي قبل (م) وضع خطأً تحت كل (١) تاتي بعد (ن) في الحروف الآتية :

(١) ك ل م س ر ن أ م ل .

(٢) ي أ ط و س أ م ص .

(٣) ع غ ن أ م ن س ح ط أ م ي .

(٤) ف أ م ق ك ر ز أ أ م .

— اكتب الكلمات الناقصة في كل سطر مما يأتي :

(٥) الأول إلى واحد مثل إلى ٤ .

(٦) إلى ١٨ مثل ٢ إلى ٣ .

(٧) إلى رطل مثل زمن إلى دقيقة .

(٨) أحمد عمره خمس سنوات وبعد ٣ سنوات يصير عمره ضعف عمر علي . فيكون عمر علي الآن :

٣ سنوات

سنة واحدة

٤ سنوات

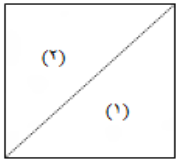

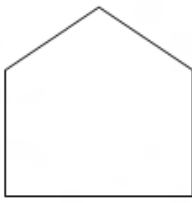
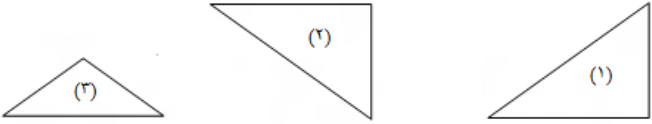
جواب آخر

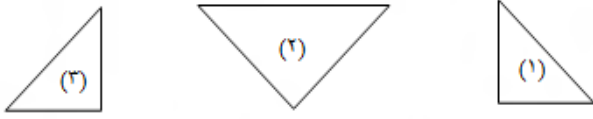

— في كل سطر مما يأتي كلمة وأمامها عدة تفسيرات بين قوسين . اختر أصلح التفسيرات لهذه الكلمة ثم ضع خطأً تحته .

(٩) الاستشهاد (البسالة في الحروب - المقاومة حتى النهاية - التبرع بالشهادة - الموت في سبيل المبدأ) .

(١٠) يستأثر (يكون سريع التأثير - يحتفظ بالشيء لنفسه - يستطيع التأثير على غيره - يميل للأخذ بالتأثر) .

— الشكل الذي على اليمين في الأسئلة الآتية مكون من الأجزاء المجاورة له - ارسم الخطوط التي تقسم هذا الشكل حتى تنتج الأجزاء المجاورة له كما في المثال الآتي - لاحظ أن بعض الأجزاء مرسومة في وضع مخالف لها في الشكل.

الشكل	الأجزاء	
		مثال:
		(١١)

الأجزاء	الشكل	
		(١٢)

(١٣) ضع علامة (X) أمام التعبير الصحيح من التعبيرات بين القوسين فيما يأتي :

فاطمة تتعلم الفرنسية والألمانية - وزينب تتعلم اللاتينية والأسبانية - وعائشة تتعلم اللاتينية والفرنسية -
ولا يوجد مدرس في المدرسة يستطيع أن يعلم أكثر من لغة واحدة فقط وعلى ذلك تكون:

- فاطمة وزينب: { (أ): يتعلمان دائماً (ب): يتعلمان أحياناً (ج): لا يتعلمان أبداً } اللغات سوياً .
- زينب وعائشة: { (أ): يتعلمان دائماً (ب): يتعلمان أحياناً (ج): لا يتعلمان أبداً } اللغات سوياً .
- فاطمة وعائشة: { (أ): يتعلمان دائماً (ب): يتعلمان أحياناً (ج): لا يتعلمان أبداً } اللغات سوياً .

(١٤) ضع علامة (X) أمام القولين المتشابهين فيما يلي :

- (أ) سبق السيف العزل .
 - (ب) الطيور على أشكائها تقع .
 - (ج) لا يُفقى ومالك في المدينة .
 - (د) تأتي الرياح بما لا تشتهي السفن .
 - (هـ) مكره أخاك لا بطل .
 - (و) إذا حضر الماء بطل التيمم .
- فيما يأتي اشطب كل (أ) تأتي بعد (م) وضع خطأ تحت كل (إ) تأتي قبل (م) وإذا جاء حرف (أ) قبل وبعد الحرف (م) اشطبه وضع خطأ تحته .

- (١٥) م ل م أن أم .
- (١٦) م أم أن أم م أ .
- (١٧) م م أم أم أ أم .
- (١٨) أم أم أم أم م أ .

- في لغة سرية يعكس ترتيب حروف الكلمة أولاً، فالكلمة " ياكل " تصير " ل ك أ ي " ثم يبدل كل حرف بالحرف الذي يأتي قبله في الحروف الهجائية فتصير الكلمة نفسها بعد ذلك " ك ق ي لا " . وتلاحظ أن الحرف " ي " اعتبر أنه قبل الحرف (أ) في الحروف الهجائية .

الحروف الأبجدية المرتبة هي كالآتي وسوف تحتاج إليها في إجابة الأسئلة :

أ ب ت ث ج ح خ د ذ ر ز س ش ص ض ط ظ ع غ ف ق ك ل م ن ه و لا ي

(١٩) حوّل كلمات الجملة الآتية إلى اللغة السرية : أك ت ب - خ ط أب أ - أل ي وم

(٢٠) الجملة الآتية مكتوبة باللغة السرية حولها إلى اللغة العادية : ذ ع ي ز - ي خ ع - ي ج أش .

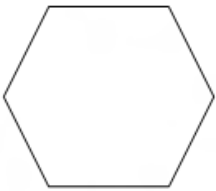
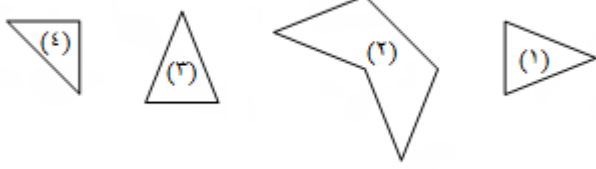
(٢١) إذا وضعت ٢٠ نقطة متجاورة بين النقطة الأولى والثانية سنتيمتر واحد وبين النقطة الثانية والثالثة سنتيمتران وبين النقطة الثالثة والرابعة سنتيمتر واحد وبين الرابعة والخامسة سنتيمتران وهكذا. فكم سنتيمتراً تكون المسافة بين أول نقطة وآخر نقطة ؟

— اختر أصلح التفسيرات لكل كلمة وضع خطأً تحته:

(٢٢) أسفر (فسر - سلم - مثل - انكشف)

(٢٣) استمرأ (أذعن لغيره - استساغ - استطرد - عمل معروفاً)

— ارسم الخطوط التي تقسم الشكل إلى الأجزاء المجاورة:

الشكل	الأجزاء
(٢٤)	
(٢٥)	

— اكتب الكلمات الناقصة في كل سطر مما يأتي :

(٢٦) المعين إلى المربع مثل إلى الدائرة .

(٢٧) الروائي إلى المؤرخ مثل إلى الحقيقة .

(٢٨) إصبع إلى يد مثل عين إلى

(٢٩) دم إلى شرايين مثل كهرباء إلى

(٣٠) مربع إلى مكعب مثل دائرة إلى

— رتب الكلمات في كل من السؤالين الآتيين لتكون جملة مفهومة ثم اعمل ما تطلبه الجملة فقط:

(٣١) ذلك استفهام كلمة ثم مرتين ضع اكتب علامة سطر بعد

(٣٢) ضرب الجواب ثلاثة تحت واكتب أربعة حاصل في خطأ ضع

— كل سؤال من الأسئلة الآتية مكون من جملتين ثم ثلاثة استنتاجات. ضع علامة (X) أمام الاستنتاج الصحيح منها :

(٣٣) لي ثلاثة أصدقاء ليس منهم من هو قصير - اثنان منهم فقط ليس لأحدهما وجه أبيض .

∴ صديقي الثالث أسمر طويل .

∴ صديقي الثالث أسمر قصير .

∴ صديقي الثالث أبيض طويل .

(٣٤) كل من كانوا بالحجرة رجال طوال ، وليس هذا الشخص القصير امرأة .

∴ لا بد أن هذا الشخص كان في الحجرة .

∴ يجوز أن هذا الشخص كان في الحجرة .

∴ لا يمكن أن هذا الشخص كان في الحجرة .

(٣٥) ليس من الكتب الإنجليزية التي أملكها كتاب أحمر وهذا الكتاب عربي أحمر .

∴ لا بد أن يكون هذا كتابي .

∴ يجوز أن يكون هذا كتابي .

∴ لا يمكن أن يكون هذا كتابي .

— فى كل سؤال من الأسئلة الآتية سلسلة من الأعداد تسيّر كل منها حسب قاعدة خاصة . اكتب الرقمين التاليين فى كل سلسلة :

(٣٦) ٥ - ١٠ - ٧ - ١٤ - ١١ - ٢٢ - ١٩ - ٣٨ - -

(٣٧) ١ - ٢ - ٥ - ١١ - ١٢ - ١٥ - ٢١ - -

— فى كل سؤال من الأسئلة الآتية قطعة خشب على شكل متوازي مستطيلات. قُطِعَ منها جزء والمطلوب منك أن تضع علامة X تحت جزء من الأجزاء الأربعة على اليسار ليكمل القطعة التي على اليمين :

القطعة	الأجزاء
(٣٨)	
(٣٩)	
(٤٠)	

— اكتب الرقمين التاليين فى السلسلتين الآتيتين :

(٤١) ٣٥ - ١٢ - ٣٠ - ١٤ - ٢٥ - ١٦ - -

(٤٢) ١٩٠ - ٩٥ - ٩٢ - ٤٦ - ٤٢ - ٢١ - ١٦ - -